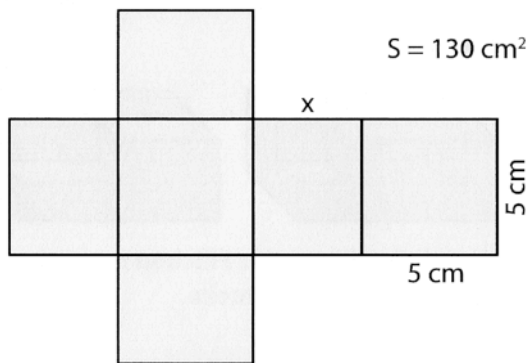


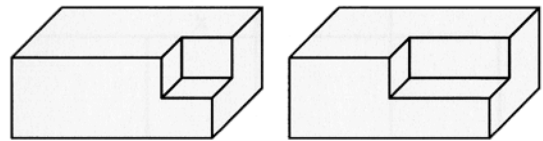
1. Completa la tabella

cubo o parallelepipedo	Spigoli			Superficie totale
	lunghezza	larghezza	altezza	
cubo	3 cm	3 cm	3 cm	_____
parallelepipedo	4 dm	5 dm	6 dm	_____
parallelepipedo	2x	3x	4x	_____
parallelepipedo	2a	5b	3c	_____
cubo	_____	_____	_____	600 m ²
cubo	_____	_____	_____	24a ²

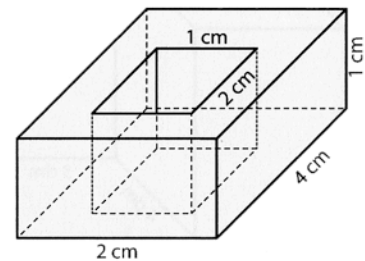
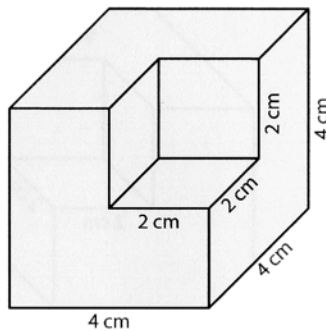
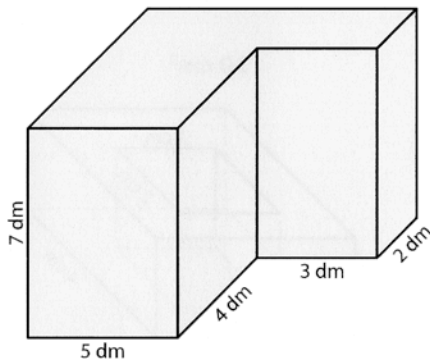
2. Calcola la lunghezza di X



3 Per quale motiva la superficie totale dei due solidi è uguale?



4. Calcola l'area totale dei solidi



5. Due parallelepipedi vengono uniti e incollati a formare un cubo. La superficie totale è il doppio rispetto a prima.